
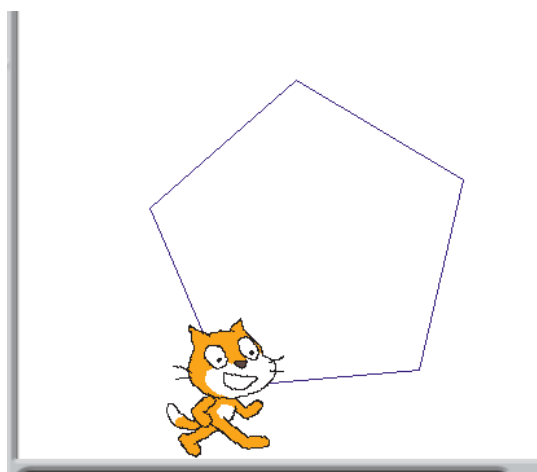


Défis Scratch Niveau 1

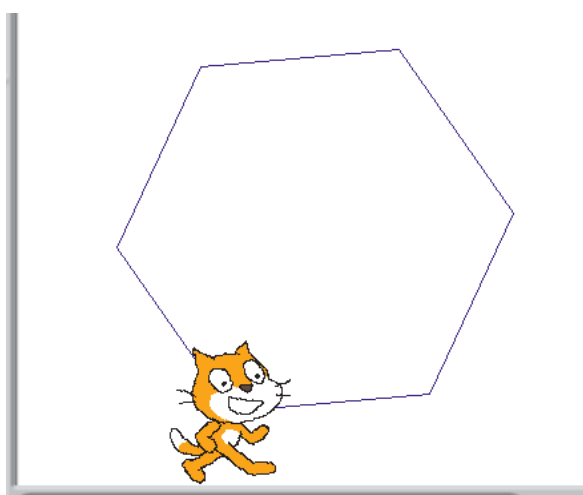
Défi 1 : Construit un carré de 250 pas de côté.



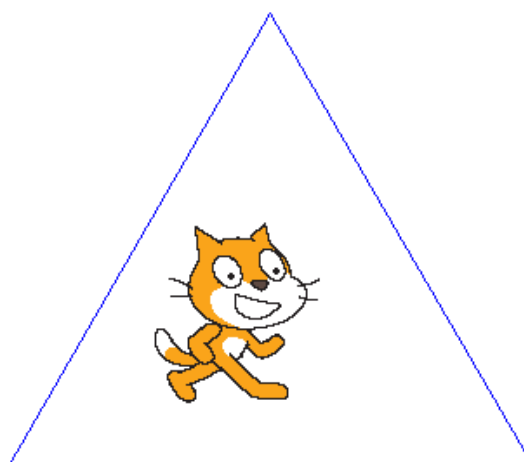
Défi 2 : Construit un pentagone de 150 pas de côté.



Défi 3 : Construit un hexagone de 150 pas de côté.



Défi 4 : Construit un équilatéral de 300 pas de côté.




Pour ces 4 défis, tu peux utiliser au moins une fois les blocs suivants.

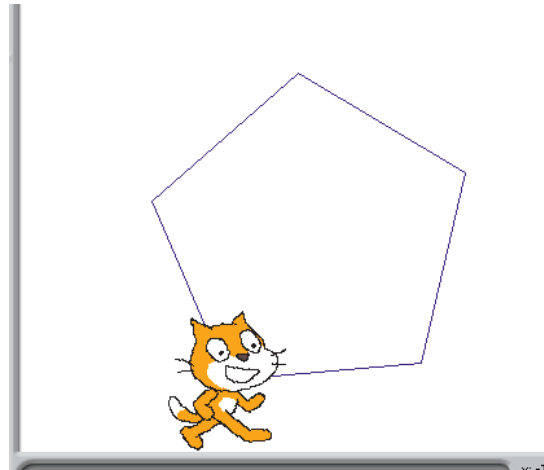


Défis Scratch Niveau 2

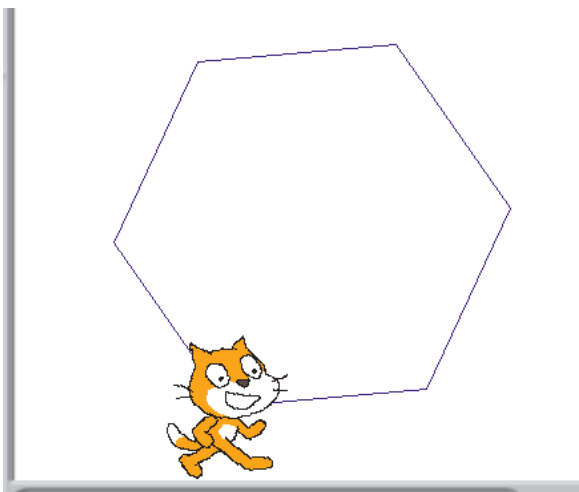
Défi 1 : Construit un carré de 250 pas de côté.



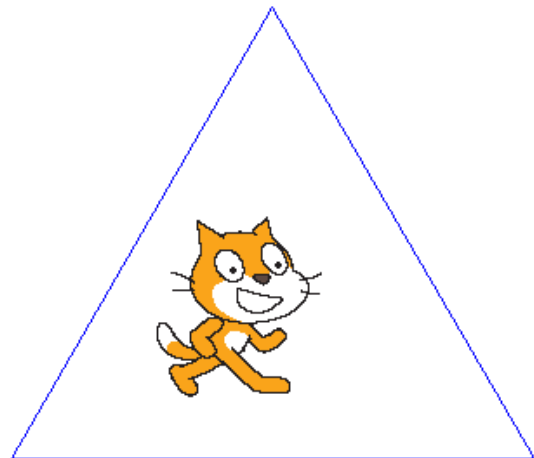
Défi 2 : Construit un pentagone de 150 pas de côté.



Défi 3 : Construit un hexagone de 150 pas de côté.



Défi 4 : Construit un équilatéral de 300 pas de côté.




Pour ces 4 défis, tu ne dois utiliser qu'une seule fois les blocs suivants.

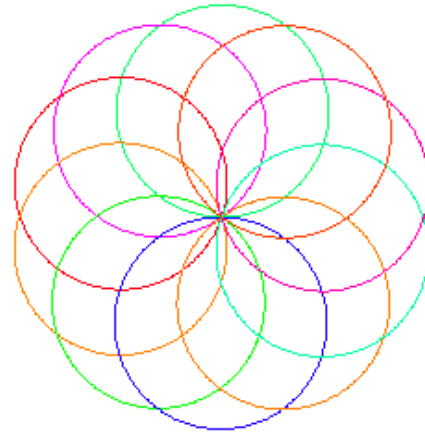


Défis Scratch Niveau 3

Défi 1 : Construit ce cercle



Défi 2 : Construit une rosace



Indice : il faut utiliser le défi 1 pour réaliser le défi 2 et cette brique :

tourner de ↻ 36 degrés

Défi 3 : Construit cette figure en ne modifiant que 2 valeurs dans le programme de construction du défi 2,

